



BURSA İL MİLLÎ EĞİTİM MÜDÜRLÜĞÜ
ÖLÇME VE DEĞERLENDİRME MERKEZİ

SOSYAL BİLGİLER

6. SINIF

EKONOMİK FAALİYETLER KAYNAKLARIMIZI DOĞRU KULLANIYORUM



Sabahattin DÜLGER
Bursa İl Millî Eğitim Müdürü

Ekrem KOZ
Bursa İl Millî Eğitim Müdür Yardımcısı

Mehmet KÖYLÜ
ÖDM Ekip Sorumlusu

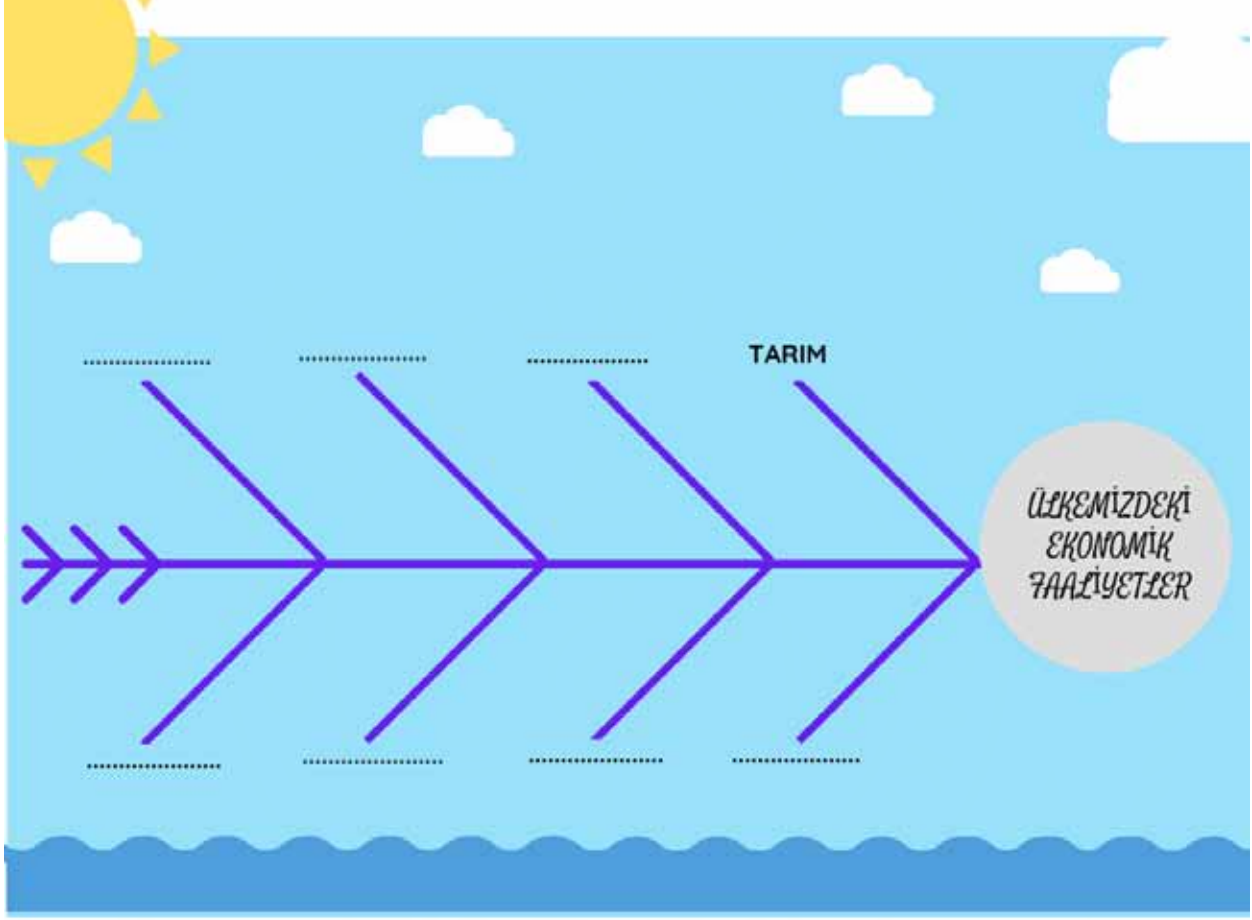
Petek Çelik

Soru/Etkinlik Yazarları
Ayşe Işık

Ertan Çağlayan

ETKİNLİK-1

Ülkemizde görülen ekonomik faaliyetler ile ilgili kavramları uygun boşluklara yazarak verilen örnekteki gibi doldurunuz.



ETKİNLİK-2

Şemada verilen görselleri inceleyiniz. Görsellerdeki tarım ürünleri ile bu ürünlerin yetiştirildiği bölgeleri eşleştiriniz. Görsellerin üzerinde yazılı harfleri bölgelerin yanında bulunan kutucuklara yazınız.

A



B



C



D



E



F



KARADENİZ
BÖLGESİ

AKDENİZ
BÖLGESİ

DOĞU ANADOLU
BÖLGESİ

EGE
BÖLGESİ

MARMARA
BÖLGESİ

İÇ ANADOLU
BÖLGESİ

ETKİNLİK- 3



ÜLKEMİZİN KAYNAKLARI VE EKONOMİK FAALİYETLER

Güneydoğu Anadolu	Maden	Sanayi
Kömür	Bacasız Sanayi	Karadeniz Bölgesi
Ekonomik Faaliyet	Buğday	Bor
Mısır	Akdeniz Bölgesi	Küçükbaş Hayvancılık

Aşağıda boş bırakılan yerlere uygun sözcükleri yazınız.

1. İnsanların yaşamlarını devam ettirmek için yaptıkları işlerin tamamınadenir.

2. Bitki örtüsünün bozkır olduğu yerlerdeyaygındır.



3. Yer altından çıkarılan ekonomik değeri olan taş ve mineralleredenir.

4. Orman bakımından en zengin bölgemiz her mevsim yağışlı olan

5. Ülkemizde sağladığı gelirler sebebiyle turizmedenir.

6. Karadeniz Bölgesinin kıyıları hariç her bölgede yetiştirilebilir.



7. Ülkemizdeki petrolün tamamıçıkartılmaktadır.

8. Petrol,doğalgaz,.....fosil enerji kaynaklarıdır.

9. Ülkemizde güneş enerjisinden en fazla..... yararlanılmaktadır.

10. Ülkemizde en fazla Marmara Bölgesinde gelişmiştir.



TEST-1



Yenilenebilir enerji kaynakları içerisinde en önemlisi güneş enerjisidir. Ülkemiz coğrafi konumu nedeniyle güneş enerjisi potansiyeli bakımından şanslı bir ülkedir. Birçok bölgemizde güneşli gün sayısı ve güneşlenme süresi yeterli düzeydedir.

Verilen bilgilerden yola çıkarak harita üzerinde numaralandırılmış yerlerden hangisi ya da hangileri güneş enerjisi üretimine en elverişlidir?

- A) Yalnız II B) I ve II C) II ve III D) II ve IV

TEST-2

	1999	2000	2001	2002	2003
Doğalgaz	36.346	42.217	49549	52496	63536
Hidroelektrik	34677	30878	20010	33684	35329
Linyit	33908	34367	34371	28056	23590
Taşkömürü	3123	3819	4046	4093	8663
Fuel Oil	6472	7459	8816	9505	8153
Diğer(Motorin, rüzgar,jeotermal)	1913	2181	1931	1565	1310
Toplam	116439	120921	118723	129399	140581

Enerji, ülkelerin kalkınmasında önemli bir güç olarak kabul edilmektedir. Sanayi tesislerinin çalışması, aydınlatma, ısınma ve ulaşımın sağlanması büyük ölçüde enerjiye dayanmaktadır. Tabloda ülkemizde enerji kaynaklarına göre elektrik enerjisi üretiminin (milyon kwh) yıllara göre değişimi verilmiştir.

Tabloda verilen bilgiler göz önünde bulundurulduğunda;

- I. Elektrik üretimi her sene bütün enerji kaynaklarında düzenli olarak artış göstermiştir.
 II. Elektrik üretiminde yenilenemeyen enerji kaynakları daha çok tercih edilmektedir.
 III. Enerji kaynakları içerisinde en fazla doğal gazdan elektrik üretimi yapılmaktadır.

hangileri söylenebilir?

- A) I ve II B) I ve III C) II ve III D) I, II ve III

TEST-3

Atatürk'ün Cumhuriyet'in ilk yıllarında tespit ettiği gibi tarım, bir millet için oldukça değerlidir. Her ne kadar sanayileşmenin hızla gelişmesi toprağın önemini ve gücünü azaltmış olsa da yine de toprak değerini korumuştur. Tarımın ülkemiz ekonomisine katkısı oldukça fazladır ve ülkemizin tarım olanaklarını arttırmak için çeşitli çalışmalar yapılmıştır. Ülkemizde çiftçiliği ve hayvancılığı arttırmak için ürün çeşitliliğini ve üretimi desteklemek için çalışan çeşitli kurumlar vardır.

Verilenlerden hangisi ülkemizde tarımı destekleyen kurumlardan biri değildir?

- A) 
- B) 
- C) 
- D) 

TEST-4



Büyükbaş Hayvancılık: Özellikle yaz yağışlarının etkisiyle gür otlakların bulunduğu yerlerde mera hayvancılığı şeklinde yaygın olarak yapılır.



Arıcılık: Bal üretimi için bitki çeşitliliği çok olan dağlık yerlerde yapılır.



Kümes Hayvancılığı: Et ve yumurta ihtiyacını karşılamak amacıyla nüfusu fazla olan yerlerde yapılır.



Küçükbaş Hayvancılık: Bozkır bitki örtüsünün yaygın olduğu yerlerde yapılmaktadır.



Verilen bilgilerden yola çıkarak yapılan hayvancılık türlerini Türkiye haritası üzerinde yerleştirdiğimizde doğru eşleştirme hangisidir?

	I	II	III	IV
A)	Kümes Hayvancılığı	Küçükbaş Hayvancılık	Arıcılık	Büyükbaş Hayvancılık
B)	Küçükbaş Hayvancılık	Arıcılık	Kümes Hayvancılığı	Büyükbaş Hayvancılık
C)	Arıcılık	Küçükbaş Hayvancılık	Büyükbaş Hayvancılık	Kümes Hayvancılığı
D)	Kümes Hayvancılığı	Büyükbaş Hayvancılık	Arıcılık	Küçükbaş Hayvancılık

TEST-5

1. Ormanlarımız ülkemizin sanayisi için önemli bir ham madde kaynağıdır.
2. Jeotermal enerji fay hatlarının bulunduğu yerlerden çıkan sıcak su buharı ile üretilen enerjidir ve en fazla İç Anadolu Bölgesinde kullanılmaktadır.
3. Ülkemizde verimli toprakların bulunması, farklı iklim tiplerinin bir arada görülmesi; tarım ürünü çeşitliliğini ve tarımda verimi arttırmaktadır.
4. Ülkemizde özellikle İç Anadolu, Güneydoğu Anadolu ve Doğu Anadolu bölgelerinde sulama sıkıntısının fazla olması sebebiyle tarım alanları nadasa bırakılmaktadır.

Tabloda verilen bilgilerden doğru olanlar yeşil, yanlış olanlar kırmızıya boyandığında nasıl bir şekil ortaya çıkar?

A)

1	Yeşil
2	Yeşil
3	Yeşil
4	Kırmızı

C)

1	Yeşil
2	Kırmızı
3	Yeşil
4	Kırmızı

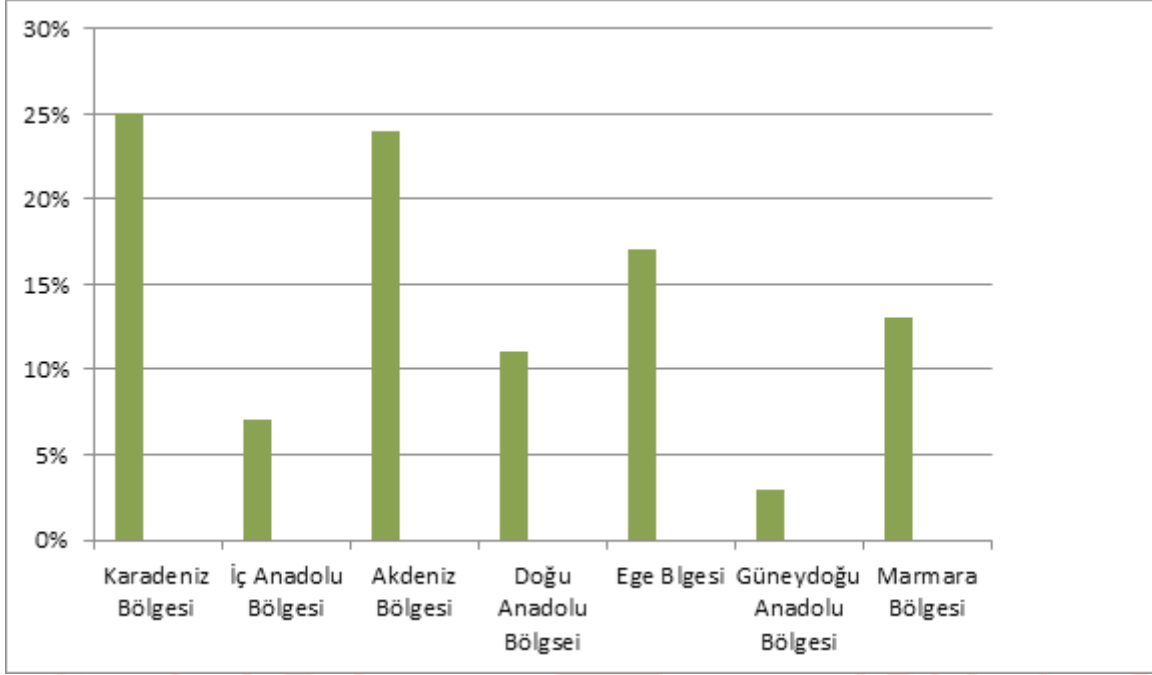
B)

1	Yeşil
2	Kırmızı
3	Yeşil
4	Yeşil

D)

1	Yeşil
2	Kırmızı
3	Kırmızı
4	Kırmızı

TEST-6



Orman, bir ülkenin en önemli doğal kaynaklarından biridir. Ülkemizin %28,6'sı ormanlarla kaplıdır. Grafikte ülkemizdeki ormanların bölgelere göre dağılımı yüzde olarak verilmiştir.

Buna göre;

- I. Ormanlarımızın büyük bölümü yağışın bol olduğu kıyı kesimlerinde toplanmıştır.
- II. Kıyıdan uzak bölgelerdeki orman oranları toplamı Karadeniz Bölgesinden fazladır.
- III. Orman ürünlerine yönelik sanayi tesisi kurmak için en elverişli bölge Karadeniz Bölgesidir.

hangileri söylenebilir?

- A) I ve II B) I ve III C) II ve III D) I, II, ve III

TEST-7

Yeryüzündeki tüm canlıların ihtiyacı olan doğal kaynaklar sınırsız ve tükenmez değildir. Dünyada nüfus hızla artarken sınırlı olan doğal kaynaklar da insanlar tarafından bilinçsizce tüketilip yok edilmektedir. Gelecek nesillere daha yaşanabilir bir dünya bırakabilmek amacı ile hayatımızın her alanında çevreye duyarlı ve bilinçli bir tüketici olmalıyız.

Doğal kaynakları korumak için;

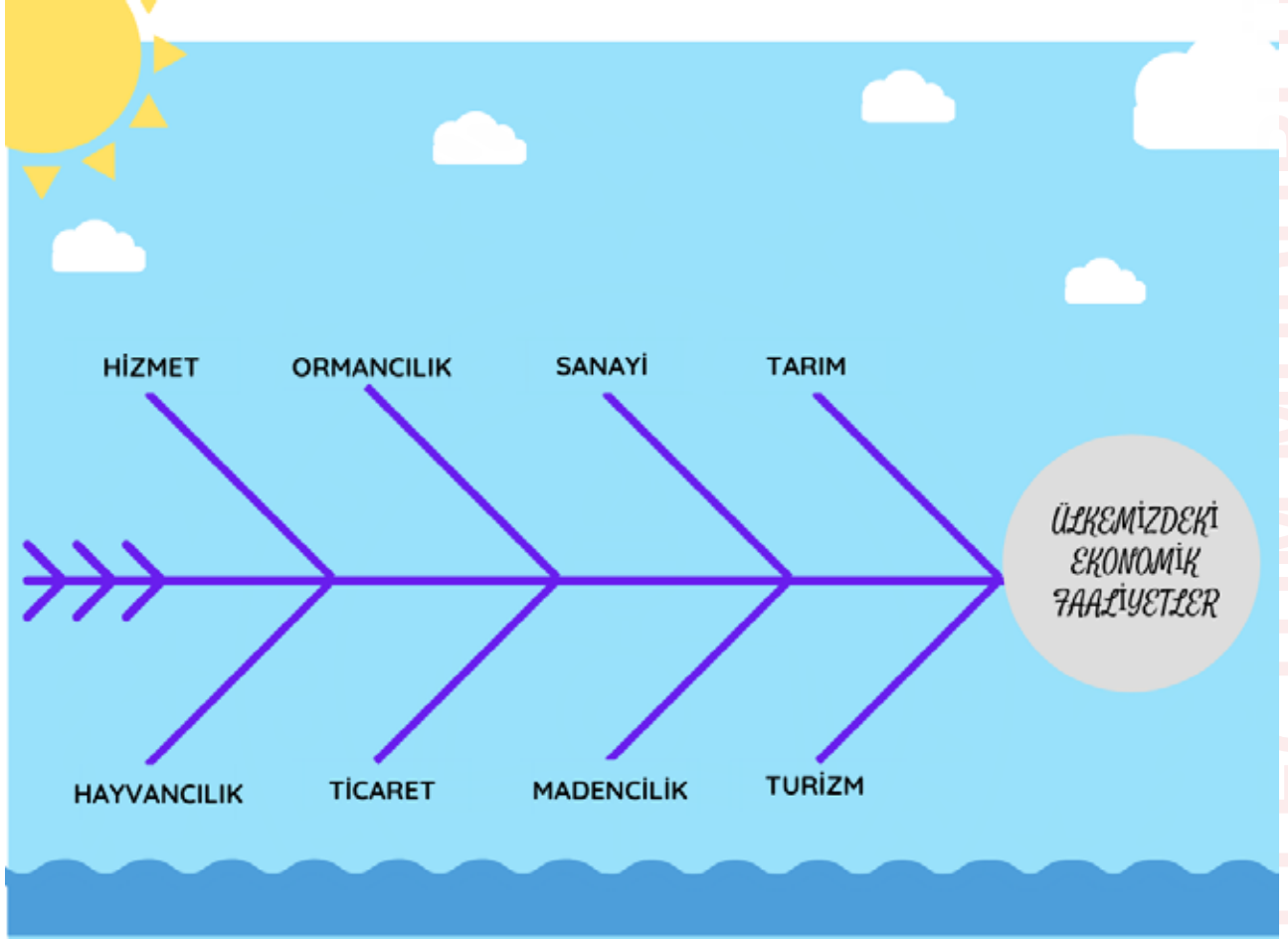
- I. Kullandığımız ürünlerde geri dönüşüm ürünlerini kullanmaya öncelik vermeli.
- II. Doğal kaynakları kullanırken, bunları çok kullanmaktan israf etmekten kaçınılmalı.
- III. Enerji kullanımında daha çok yenilenemeyen enerji kaynaklarına yatırımlar yapılmalı.

hangileri yapılırsa doğru olur?

- A) I ve II B) I ve III C) II ve III D) I, II ve III

ETKİNLİK-1

Ülkemizde görülen ekonomik faaliyetler ile ilgili kavramları uygun boşluklara yazarak verilen örnekteki gibi doldurunuz.



ETKİNLİK-2

Şemada verilen görselleri inceleyiniz. Görsellerdeki tarım ürünleri ile bu ürünlerin yetiştirildiği bölgeleri eşleştiriniz. Görsellerin üzerinde yazılı harfleri bölgelerin yanında bulunan kutucuklara yazınız.

A



B



C



D



E



F



C

KARADENİZ
BÖLGESİ

B

AKDENİZ
BÖLGESİ

F

DOĞU ANADOLU
BÖLGESİ

E

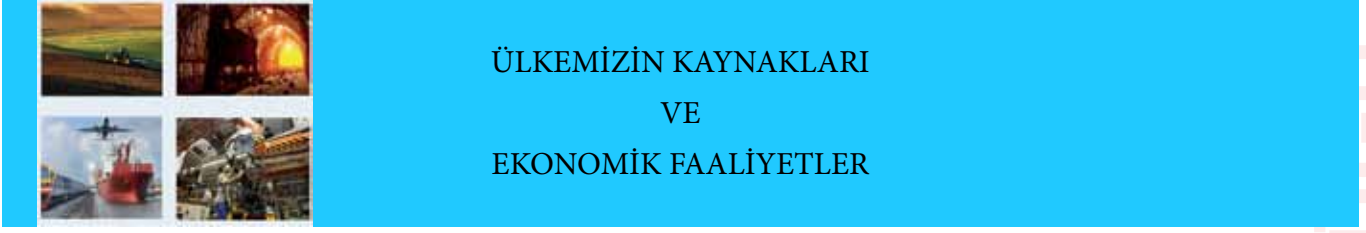
EGE
BÖLGESİ

D

MARMARA
BÖLGESİ

A

İÇ ANADOLU
BÖLGESİ



Güneydoğu Anadolu	Maden	Sanayi
Kömür	Bacasız Sanayi	Karadeniz Bölgesi
Ekonomik Faaliyet	Buğday	Bor
Mısır	Akdeniz Bölgesi	Küçükbaş Hayvancılık

Aşağıda boş bırakılan yerlere uygun sözcükleri yazınız.

1. İnsanların yaşamlarını devam ettirmek için yaptıkları işlerin tamamına **ekonomik faaliyet** denir.

2. Bitki örtüsünün bozkır olduğu yerlerde **küçükbaş hayvancılık** yaygındır.



3. Yer altından çıkarılan ekonomik değeri olan taş ve minerallere **maden** denir.

4. Orman bakımından en zengin bölgemiz her mevsim yağışlı olan **Karadeniz Bölgesidir**

5. Ülkemizde sağladığı gelirler sebebiyle turizmde **bacasız sanayi** denir.

6. **Buğday** Karadeniz Bölgesinin kıyıları hariç her bölgede yetiştirilebilir.



7. Ülkemizdeki petrolün tamamı **Güneydoğu Anadolu Bölgesinde** çıkarılmaktadır.

8. Petrol,doğalgaz **kömür** fosil enerji kaynaklarıdır.

9. Ülkemizde güneş enerjisinden en fazla **Akdeniz Bölgesinde** yararlanılmaktadır.

10. Ülkemizde **sanayi** en fazla Marmara Bölgesinde gelişmiştir.



TESTLERİN CEVAPLARI

- 1-D
- 2-C
- 3-D
- 4-A
- 5-B
- 6-B
- 7-A

